

Hvilket tal kommer lige før og efter?

Skriv de tal der kommer lige før og lige efter tallet:

	3	
--	---	--

	4	
--	---	--

	7	
--	---	--

	14	
--	----	--

	5	
--	---	--

	10	
--	----	--

	9	
--	---	--

	1	
--	---	--

	6	
--	---	--

	2	
--	---	--



Hvilket tal kommer lige før og efter? **LØSNING**

Skriv de tal der kommer lige før og lige efter tallet:

2	3	4
---	---	---

3	4	5
---	---	---

6	7	8
---	---	---

13	14	15
----	----	----

4	5	6
---	---	---

9	10	11
---	----	----

8	9	10
---	---	----

0	1	2
---	---	---

5	6	7
---	---	---

1	2	3
---	---	---



Hvilket tal kommer lige før og efter?

Skriv de tal der kommer lige før og lige efter tallet:

	2	
--	---	--

	9	
--	---	--

	5	
--	---	--

	11	
--	----	--

	8	
--	---	--

	1	
--	---	--

	7	
--	---	--

	12	
--	----	--

	3	
--	---	--

	6	
--	---	--



Hvilket tal kommer lige før og efter? **LØSNING**

Skriv de tal der kommer lige før og lige efter tallet:

1	2	3
---	---	---

8	9	10
---	---	----

4	5	6
---	---	---

10	11	12
----	----	----

7	8	9
---	---	---

0	1	2
---	---	---

6	7	8
---	---	---

11	12	13
----	----	----

2	3	4
---	---	---

5	6	7
---	---	---



Hvilket tal kommer lige før og efter?

Skriv de tal der kommer lige før og lige efter tallet:

	4	
--	---	--

	3	
--	---	--

	2	
--	---	--

	11	
--	----	--

	6	
--	---	--

	15	
--	----	--

	8	
--	---	--

	18	
--	----	--

	1	
--	---	--

	9	
--	---	--



Hvilket tal kommer lige før og efter? **LØSNING**

Skriv de tal der kommer lige før og lige efter tallet:

3	4	5
---	---	---

2	3	4
---	---	---

1	2	3
---	---	---

10	11	12
----	----	----

5	6	7
---	---	---

14	15	15
----	----	----

7	8	9
---	---	---

17	18	19
----	----	----

0	1	2
---	---	---

8	9	10
---	---	----



Hvilket tal kommer lige før og efter?

Skriv de tal der kommer lige før og lige efter tallet:

	3	
--	---	--

	10	
--	----	--

	5	
--	---	--

	7	
--	---	--

	9	
--	---	--


	4	
--	---	--

	8	
--	---	--

	11	
--	----	--

	2	
--	---	--

	6	
--	---	--



Hvilket tal kommer lige før og efter? **LØSNING**

Skriv de tal der kommer lige før og lige efter tallet:

2	3	4
---	---	---

9	10	11
---	----	----

4	5	6
---	---	---

6	7	8
---	---	---

8	9	10
---	---	----


3	4	5
---	---	---

7	8	9
---	---	---

10	11	12
----	----	----

1	2	3
---	---	---

5	6	7
---	---	---





Hvilket tal kommer lige før og efter?

Skriv de tal der kommer lige før og lige efter tallet:

	3	
--	---	--

	9	
--	---	--

	6	
--	---	--

	5	
--	---	--

	4	
--	---	--


	2	
--	---	--

	8	
--	---	--

	10	
--	----	--

	7	
--	---	--

	1	
--	---	--



Hvilket tal kommer lige før og efter? **LØSNING**

Skriv de tal der kommer lige før og lige efter tallet:

2	3	4
---	---	---

8	9	10
---	---	----

5	6	7
---	---	---

4	5	6
---	---	---

3	4	5
---	---	---


1	2	3
---	---	---

7	8	9
---	---	---

9	10	11
---	----	----

6	7	8
---	---	---

0	1	2
---	---	---



Hvilket tal kommer lige før og efter?

Skriv de tal der kommer lige før og lige efter tallet:

	5	
--	---	--

	8	
--	---	--

	7	
--	---	--

	10	
--	----	--

	3	
--	---	--


	2	
--	---	--

	9	
--	---	--

	6	
--	---	--

	4	
--	---	--

	1	
--	---	--



Hvilket tal kommer lige før og efter? **LØSNING**

Skriv de tal der kommer lige før og lige efter tallet:

4	5	6
---	---	---

7	8	9
---	---	---

6	7	8
---	---	---

9	10	11
---	----	----

2	3	4
---	---	---


1	2	3
---	---	---

8	9	10
---	---	----

5	6	7
---	---	---

3	4	5
---	---	---

0	1	2
---	---	---



Hvilket tal kommer lige før og efter?

Skriv de tal der kommer lige før og lige efter tallet:

	2	
--	---	--

	1	
--	---	--

	7	
--	---	--

	3	
--	---	--

	10	
--	----	--


	8	
--	---	--

	5	
--	---	--

	4	
--	---	--

	9	
--	---	--

	6	
--	---	--



Hvilket tal kommer lige før og efter? **LØSNING**

Skriv de tal der kommer lige før og lige efter tallet:

1	2	3
---	---	---

0	1	2
---	---	---

6	7	8
---	---	---

2	3	4
---	---	---

9	10	11
---	----	----


7	8	9
---	---	---

4	5	6
---	---	---

3	4	5
---	---	---

8	9	10
---	---	----

5	6	7
---	---	---



Hvilket tal kommer lige før og efter?

Skriv de tal der kommer lige før og lige efter tallet:

	6	
--	---	--

	4	
--	---	--

	8	
--	---	--

	1	
--	---	--

	2	
--	---	--


	10	
--	----	--

	9	
--	---	--

	5	
--	---	--

	3	
--	---	--

	7	
--	---	--



Hvilket tal kommer lige før og efter? **LØSNING**

Skriv de tal der kommer lige før og lige efter tallet:

5	6	7
---	---	---

3	4	5
---	---	---

7	8	9
---	---	---

0	1	2
---	---	---

1	2	3
---	---	---


9	10	11
---	----	----

8	9	10
---	---	----

4	5	6
---	---	---

2	3	4
---	---	---

6	7	8
---	---	---





Hvilket tal kommer lige før og efter?

Skriv de tal der kommer lige før og lige efter tallet:

	5	
--	---	--

	7	
--	---	--

	3	
--	---	--

	2	
--	---	--

	9	
--	---	--

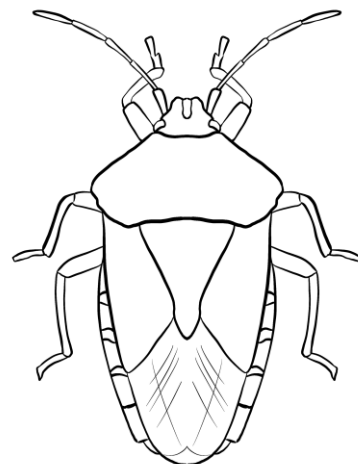
	6	
--	---	--

	4	
--	---	--

	1	
--	---	--

	10	
--	----	--

	8	
--	---	--



Hvilket tal kommer lige før og efter? **LØSNING**

Skriv de tal der kommer lige før og lige efter tallet:

4	5	6
---	---	---

6	7	8
---	---	---

2	3	4
---	---	---

1	2	3
---	---	---

8	9	10
---	---	----

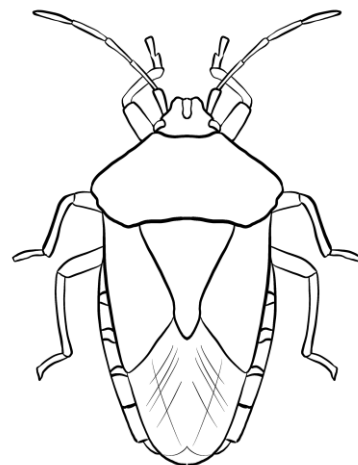
5	6	7
---	---	---

3	4	5
---	---	---

0	1	2
---	---	---

9	10	11
---	----	----

7	8	9
---	---	---



Hvilket tal kommer lige før og efter?

Skriv de tal der kommer lige før og lige efter tallet:

	3	
--	---	--

	6	
--	---	--

	7	
--	---	--

	9	
--	---	--

	4	
--	---	--

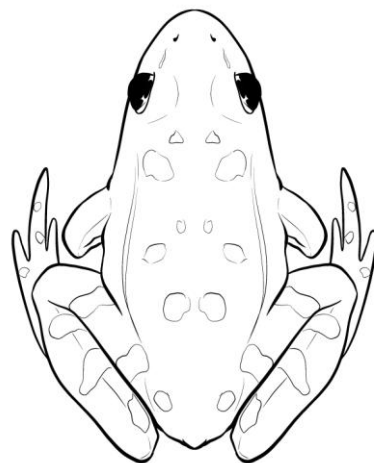
	2	
--	---	--

	10	
--	----	--

	8	
--	---	--

	5	
--	---	--

	1	
--	---	--



Hvilket tal kommer lige før og efter? **LØSNING**

Skriv de tal der kommer lige før og lige efter tallet:

2	3	4
---	---	---

5	6	7
---	---	---

6	7	8
---	---	---

8	9	10
---	---	----

3	4	5
---	---	---

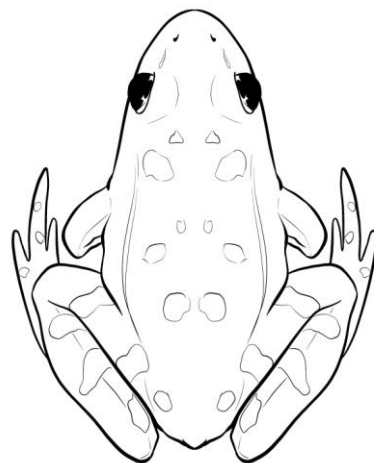
1	2	3
---	---	---

9	10	11
---	----	----

7	8	9
---	---	---

4	5	6
---	---	---

0	1	2
---	---	---



Hvilket tal kommer lige før og efter?

Skriv de tal der kommer lige før og lige efter tallet:

	8	
--	---	--

	2	
--	---	--

	3	
--	---	--

	7	
--	---	--

	5	
--	---	--


	1	
--	---	--

	4	
--	---	--

	6	
--	---	--

	9	
--	---	--

	10	
--	----	--



Hvilket tal kommer lige før og efter? **LØSNING**

Skriv de tal der kommer lige før og lige efter tallet:

7	8	9
---	---	---

1	2	3
---	---	---

2	3	4
---	---	---

6	7	8
---	---	---

4	5	6
---	---	---


0	1	2
---	---	---

3	4	5
---	---	---

5	6	7
---	---	---

8	9	10
---	---	----

9	10	11
---	----	----



Hvilket tal kommer lige før og efter?

Skriv de tal der kommer lige før og lige efter tallet:

	1	
--	---	--

	6	
--	---	--

	5	
--	---	--

	3	
--	---	--

	2	
--	---	--


	4	
--	---	--

	8	
--	---	--

	10	
--	----	--

	9	
--	---	--

	7	
--	---	--



Hvilket tal kommer lige før og efter? **LØSNING**

Skriv de tal der kommer lige før og lige efter tallet:

0	1	2
---	---	---

5	6	7
---	---	---

4	5	6
---	---	---

2	3	4
---	---	---

1	2	3
---	---	---


3	4	5
---	---	---

7	8	9
---	---	---

9	10	11
---	----	----

8	9	10
---	---	----

6	7	8
---	---	---





Hvilket tal kommer lige før og efter?

Skriv de tal der kommer lige før og lige efter tallet:

	3	
--	---	--

	4	
--	---	--

	9	
--	---	--

	8	
--	---	--

	5	
--	---	--


	1	
--	---	--

	2	
--	---	--

	6	
--	---	--

	7	
--	---	--

	10	
--	----	--



Hvilket tal kommer lige før og efter? **LØSNING**

Skriv de tal der kommer lige før og lige efter tallet:

2	3	4
---	---	---

3	4	5
---	---	---

8	9	10
---	---	----

7	8	9
---	---	---

4	5	6
---	---	---


0	1	2
---	---	---

1	2	3
---	---	---

5	6	7
---	---	---

6	7	8
---	---	---

9	10	11
---	----	----



Hvilket tal kommer lige før og efter?

Skriv de tal der kommer lige før og lige efter tallet:

	2	
--	---	--

	3	
--	---	--

	6	
--	---	--

	7	
--	---	--

	4	
--	---	--

	1	
--	---	--

	10	
--	----	--

	8	
--	---	--

	5	
--	---	--

	9	
--	---	--



Hvilket tal kommer lige før og efter? **LØSNING**

Skriv de tal der kommer lige før og lige efter tallet:

1	2	3
---	---	---

2	3	4
---	---	---

5	6	7
---	---	---

6	7	8
---	---	---

3	4	5
---	---	---

0	1	2
---	---	---

9	10	11
---	----	----

7	8	9
---	---	---

4	5	6
---	---	---

8	9	10
---	---	----



Hvilket tal kommer lige før og efter?

Skriv de tal der kommer lige før og lige efter tallet:

	3	
--	---	--

	2	
--	---	--

	8	
--	---	--

	9	
--	---	--

	1	
--	---	--


	4	
--	---	--

	10	
--	----	--

	6	
--	---	--

	5	
--	---	--

	7	
--	---	--



Hvilket tal kommer lige før og efter? **LØSNING**

Skriv de tal der kommer lige før og lige efter tallet:

2	3	4
---	---	---

1	2	3
---	---	---

7	8	9
---	---	---

8	9	10
---	---	----

0	1	2
---	---	---


3	4	5
---	---	---

9	10	11
---	----	----

5	6	7
---	---	---

4	5	6
---	---	---

6	7	8
---	---	---



Hvilket tal kommer lige før og efter?

Skriv de tal der kommer lige før og lige efter tallet:

	5	
--	---	--

	10	
--	----	--

	7	
--	---	--

	6	
--	---	--

	9	
--	---	--


	1	
--	---	--

	3	
--	---	--

	4	
--	---	--

	8	
--	---	--

	2	
--	---	--



Hvilket tal kommer lige før og efter? **LØSNING**

Skriv de tal der kommer lige før og lige efter tallet:

4	5	6
---	---	---

9	10	11
---	----	----

6	7	8
---	---	---

5	6	7
---	---	---

8	9	10
---	---	----


0	1	2
---	---	---

2	3	4
---	---	---

3	4	5
---	---	---

7	8	9
---	---	---

1	2	3
---	---	---





Hvilket tal kommer lige før og efter?

Skriv de tal der kommer lige før og lige efter tallet:

	7	
--	---	--

	6	
--	---	--

	5	
--	---	--

	10	
--	----	--

	9	
--	---	--

	8	
--	---	--

	2	
--	---	--

	3	
--	---	--

	4	
--	---	--

	1	
--	---	--



Hvilket tal kommer lige før og efter? **LØSNING**

Skriv de tal der kommer lige før og lige efter tallet:

6	7	8
---	---	---

5	6	7
---	---	---

4	5	6
---	---	---

9	10	11
---	----	----

8	9	10
---	---	----

7	8	9
---	---	---

1	2	3
---	---	---

2	3	4
---	---	---

3	4	5
---	---	---

0	1	2
---	---	---



Hvilket tal kommer lige før og efter?

Skriv de tal der kommer lige før og lige efter tallet:

	3	
--	---	--

	5	
--	---	--

	9	
--	---	--

	4	
--	---	--

	1	
--	---	--

	2	
--	---	--

	10	
--	----	--

	7	
--	---	--

	6	
--	---	--

	8	
--	---	--



Hvilket tal kommer lige før og efter? **LØSNING**

Skriv de tal der kommer lige før og lige efter tallet:

2	3	4
---	---	---

4	5	6
---	---	---

8	9	10
---	---	----

3	4	5
---	---	---

0	1	2
---	---	---

1	2	3
---	---	---

9	10	11
---	----	----

6	7	8
---	---	---

5	6	7
---	---	---

7	8	9
---	---	---



Hvilket tal kommer lige før og efter?

Skriv de tal der kommer lige før og lige efter tallet:

	6	
--	---	--

	5	
--	---	--

	4	
--	---	--

	10	
--	----	--

	9	
--	---	--

	7	
--	---	--

	2	
--	---	--

	1	
--	---	--

	8	
--	---	--

	3	
--	---	--



Hvilket tal kommer lige før og efter? **LØSNING**

Skriv de tal der kommer lige før og lige efter tallet:

5	6	7
---	---	---

4	5	6
---	---	---

3	4	5
---	---	---

9	10	11
---	----	----

8	9	10
---	---	----

6	7	8
---	---	---

1	2	3
---	---	---

0	1	2
---	---	---

7	8	9
---	---	---

2	3	4
---	---	---



Hvilket tal kommer lige før og efter?

Skriv de tal der kommer lige før og lige efter tallet:

	8	
--	---	--

	3	
--	---	--

	4	
--	---	--

	2	
--	---	--

	6	
--	---	--

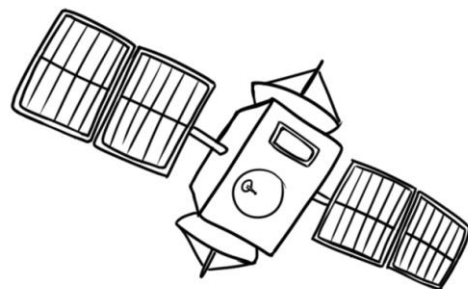
	9	
--	---	--

	5	
--	---	--

	1	
--	---	--

	10	
--	----	--

	7	
--	---	--



Hvilket tal kommer lige før og efter? **LØSNING**

Skriv de tal der kommer lige før og lige efter tallet:

7	8	9
---	---	---

2	3	4
---	---	---

3	4	5
---	---	---

1	2	3
---	---	---

5	6	7
---	---	---

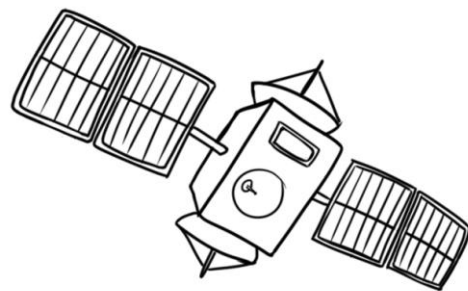
8	9	10
---	---	----

4	5	6
---	---	---

0	1	2
---	---	---

9	10	11
---	----	----

6	7	8
---	---	---





Hvilket tal kommer lige før og efter?

Skriv de tal der kommer lige før og lige efter tallet:

	5	
--	---	--

	1	
--	---	--

	2	
--	---	--

	6	
--	---	--

	9	
--	---	--

	3	
--	---	--

	7	
--	---	--

	10	
--	----	--

	4	
--	---	--

	8	
--	---	--



Hvilket tal kommer lige før og efter? **LØSNING**

Skriv de tal der kommer lige før og lige efter tallet:

4	5	6
---	---	---

0	1	2
---	---	---

1	2	3
---	---	---

5	6	7
---	---	---

8	9	10
---	---	----

2	3	4
---	---	---

6	7	8
---	---	---

9	10	11
---	----	----

3	4	5
---	---	---

7	8	9
---	---	---



Hvilket tal kommer lige før og efter?

Skriv de tal der kommer lige før og lige efter tallet:

	4	
--	---	--

	2	
--	---	--

	1	
--	---	--

	7	
--	---	--

	6	
--	---	--

	3	
--	---	--

	9	
--	---	--

	5	
--	---	--

	8	
--	---	--

	10	
--	----	--



Hvilket tal kommer lige før og efter? **LØSNING**

Skriv de tal der kommer lige før og lige efter tallet:

3	4	5
---	---	---

1	2	3
---	---	---

0	1	2
---	---	---

6	7	8
---	---	---

5	6	7
---	---	---

2	3	4
---	---	---

8	9	10
---	---	----

4	5	6
---	---	---

7	8	9
---	---	---

9	10	11
---	----	----



Hvilket tal kommer lige før og efter?

Skriv de tal der kommer lige før og lige efter tallet:

	6	
--	---	--

	4	
--	---	--

	3	
--	---	--

	1	
--	---	--

	10	
--	----	--

	8	
--	---	--

	9	
--	---	--

	5	
--	---	--

	2	
--	---	--

	7	
--	---	--



Hvilket tal kommer lige før og efter? **LØSNING**

Skriv de tal der kommer lige før og lige efter tallet:

5	6	7
---	---	---

3	4	5
---	---	---

2	3	4
---	---	---

0	1	2
---	---	---

9	10	11
---	----	----

7	8	9
---	---	---

8	9	10
---	---	----

4	5	6
---	---	---

1	2	3
---	---	---



6	7	8
---	---	---