

Hjælp Alfa og Beta med at regne minus-stykkerne.



-	1	2	3
4			
6			
8			

-	4	5	6
7			
8			
9			

-	2	6	4
8			
9			
7			

-	4	2	1
6			
5			
9			

Hjælp Alfa og Beta med at regne minus-stykkerne.

LØSNING



-	1	2	3
4	3	2	1
6	5	4	3
8	7	6	5

-	4	5	6
7	3	2	1
8	4	3	2
9	5	4	3

-	2	6	4
8	6	2	4
9	7	3	5
7	5	1	3

-	4	2	1
6	2	4	5
5	1	3	4
9	5	7	8

Hjælp Alfa og Beta med at regne minus-stykkerne.



-	1	2	3
6			
5			
4			

-	6	5	2
8			
7			
9			

-	1	2	3
5			
3			
4			

-	5	3	1
6			
9			
7			

Hjælp Alfa og Beta med at regne minus-stykkerne.

LØSNING




-	1	2	3
6	5	4	3
5	4	3	2
4	3	2	1

-	6	5	2
8	2	3	6
7	1	2	5
9	3	4	7

-	1	2	3
5	4	3	2
3	2	1	0
4	3	2	1

-	5	3	1
6	1	3	5
9	4	6	8
7	2	4	6

Hjælp Alfa og Beta med at regne minus-stykkerne.



-	4	3	5
5			
7			
9			


-	1	2	3
8			
3			
5			

-	3	2	1
7			
4			
6			

-	4	3	2
8			
6			
4			

Hjælp Alfa og Beta med at regne minus-stykkerne.

LØSNING



-	4	3	5
5	1	2	0
7	3	4	2
9	5	6	4

-	1	2	3
8	7	6	5
3	2	1	0
5	4	3	2

-	3	2	1
7	4	5	6
4	1	2	3
6	3	4	5

-	4	3	2
8	4	5	6
6	2	3	4
4	0	1	2

Hjælp Alfa og Beta med at regne minus-stykkerne.



-	7	5	3
12			
14			
16			


-	3	5	7
13			
17			
15			

-	6	7	5
19			
18			
16			

-	1	5	2
14			
10			
11			

Hjælp Alfa og Beta med at regne minus-stykkerne.

LØSNING



-	7	5	3
12	5	7	9
14	7	9	11
16	9	11	13


-	3	5	7
13	10	8	6
17	14	12	10
15	12	10	8

-	6	7	5
19	13	12	14
18	12	11	13
16	10	9	11

-	1	5	2
14	13	9	12
10	9	5	8
11	10	6	9



Hjælp Alfa og Beta med at regne minus-stykkerne.



-	5	6	7
10			
11			
12			


-	6	8	9
16			
18			
17			

-	3	4	5
14			
13			
15			

-	2	4	6
19			
17			
15			

Hjælp Alfa og Beta med at regne minus-stykkerne.

LØSNING



-	5	6	7
10	5	4	3
11	6	5	4
12	7	6	5

-	6	8	9
16	10	8	5
18	12	10	9
17	11	9	8

-	3	4	5
14	11	10	9
13	10	9	8
15	12	11	10

-	2	4	6
19	17	15	13
17	15	13	11
15	13	11	9

Hjælp Alfa og Beta med at regne minus-stykkerne.



-	4	6	3
9			
8			
7			

-	1	2	3
11			
12			
13			

-	5	6	7
19			
16			
15			

-	4	7	8
18			
17			
14			

Hjælp Alfa og Beta med at regne minus-stykkerne.

LØSNING



-	4	6	3
9	5	3	6
8	4	2	5
7	3	1	4

-	1	2	3
11	10	9	8
12	11	10	9
13	12	11	10

-	5	6	7
19	14	13	12
16	11	10	9
15	10	9	8

-	4	7	8
18	14	11	10
17	13	10	9
14	10	7	6