

Hvilke tal mangler?








Sæt  ved de tal der passer i rækken.

| | | |
|--------------------|---------|--|
| 1 _ 3 4 5 _ 7 8 | 2 og 5 | |
| | 3 og 7 | |
| | 2 og 6 | |
| 5 _ 7 _ 9 10 11 12 | 6 og 8 | |
| | 6 og 9 | |
| | 5 og 7 | |
| 2 3 4 _ _ 7 8 9 | 4 og 7 | |
| | 5 og 6 | |
| | 7 og 8 | |
| 6 7 _ 9 10 11 12 _ | 7 og 12 | |
| | 9 og 13 | |
| | 8 og 13 | |
| _ 5 6 7 8 9 10 _ | 5 og 10 | |
| | 4 og 11 | |
| | 4 og 10 | |

Hvilke tal mangler? **LØSNING**



Sæt  ved de tal der passer i rækken.

| | | |
|---------------------------|----------------|---|
| <p>1 _ 3 4 5 _ 7 8</p> | <p>2 og 5</p> | |
| | <p>3 og 7</p> | |
| | <p>2 og 6</p> |  |
| <p>5 _ 7 _ 9 10 11 12</p> | <p>6 og 8</p> |  |
| | <p>6 og 9</p> | |
| <p>2 3 4 _ _ 7 8 9</p> | <p>5 og 7</p> | |
| | <p>4 og 7</p> | |
| <p>6 7 _ 9 10 11 12 _</p> | <p>5 og 6</p> |  |
| | <p>7 og 8</p> | |
| <p>_ 5 6 7 8 9 10 _</p> | <p>7 og 12</p> | |
| | <p>9 og 13</p> | |
| | <p>8 og 13</p> |  |
| | <p>5 og 10</p> | |
| | <p>4 og 11</p> |  |
| | <p>4 og 10</p> | |