



Hvilke tal mangler?







Sæt  ved de tal der passer i rækken.

4 5 ___ 7 8 ___ 10 11	6 og 8	<input type="checkbox"/>
	4 og 11	<input type="checkbox"/>
	6 og 9	<input type="checkbox"/>
8 ___ 10 11 12 13 ___ 15	9 og 14	<input type="checkbox"/>
	10 og 13	<input type="checkbox"/>
	9 og 13	<input type="checkbox"/>
___ 2 3 4 5 6 7 ___	1 og 7	<input type="checkbox"/>
	1 og 8	<input type="checkbox"/>
	2 og 8	<input type="checkbox"/>
3 ___ 5 6 7 ___ 9 10	4 og 7	<input type="checkbox"/>
	4 og 8	<input type="checkbox"/>
	5 og 9	<input type="checkbox"/>
5 6 7 ___ ___ 10 11 12	7 og 10	<input type="checkbox"/>
	6 og 11	<input type="checkbox"/>
	8 og 9	<input type="checkbox"/>

Hvilke tal mangler? **LØSNING**



Sæt  ved de tal der passer i rækken.

<p>4 5 ___ 7 8 ___ 10 11</p>	<p>6 og 8</p>	
	<p>4 og 11</p>	
	<p>6 og 9</p>	
<p>8 ___ 10 11 12 13 ___ 15</p>	<p>9 og 14</p>	
	<p>10 og 13</p>	
<p>___ 2 3 4 5 6 7 ___</p>	<p>9 og 13</p>	
	<p>1 og 7</p>	
<p>3 ___ 5 6 7 ___ 9 10</p>	<p>1 og 8</p>	
	<p>2 og 8</p>	
<p>5 6 7 ___ ___ 10 11 12</p>	<p>4 og 7</p>	
	<p>4 og 8</p>	
	<p>5 og 9</p>	
	<p>7 og 10</p>	
	<p>6 og 11</p>	
	<p>8 og 9</p>	