


Hvilke tal mangler?

Sæt  ved de tal der passer i rækken.







<p>1 ___ 3 4 5 ___ 7 8</p>	<p>1 og 6</p>	
	<p>2 og 6</p>	
	<p>3 og 6</p>	
<p>___ 6 7 8 9 ___ 11 12</p>	<p>5 og 10</p>	
	<p>6 og 11</p>	
	<p>5 og 9</p>	
<p>2 3 ___ 5 ___ 7 8 9</p>	<p>6 og 9</p>	
	<p>4 og 6</p>	
	<p>3 og 4</p>	
<p>6 ___ 8 9 10 11 ___ 13</p>	<p>7 og 13</p>	
	<p>6 og 11</p>	
	<p>7 og 12</p>	
<p>0 ___ 2 3 4 5 6 ___</p>	<p>3 og 4</p>	
	<p>0 og 6</p>	
	<p>1 og 7</p>	

Hvilke tal mangler? **LØSNING**



Sæt  ved de tal der passer i rækken.

<p>1 ___ 3 4 5 ___ 7 8</p>	<p>1 og 6</p>	
	<p>2 og 6</p>	
	<p>3 og 6</p>	
<p>___ 6 7 8 9 ___ 11 12</p>	<p>5 og 10</p>	
	<p>6 og 11</p>	
	<p>5 og 9</p>	
<p>2 3 ___ 5 ___ 7 8 9</p>	<p>6 og 9</p>	
	<p>4 og 6</p>	
	<p>3 og 4</p>	
<p>6 ___ 8 9 10 11 ___ 13</p>	<p>7 og 13</p>	
	<p>6 og 11</p>	
	<p>7 og 12</p>	
<p>0 ___ 2 3 4 5 6 ___</p>	<p>3 og 4</p>	
	<p>0 og 6</p>	
	<p>1 og 7</p>	