

Hvilke tal mangler?

Sæt  ved de tal der passer i rækken.








<p>1 ___ 3 4 5 ___ 7 8</p>	<p>3 og 6</p>	
	<p>2 og 6</p>	
	<p>2 og 7</p>	
<p>___ 6 7 8 9 10 ___ 12</p>	<p>6 og 12</p>	
	<p>5 og 11</p>	
<p>3 4 ___ 6 7 8 ___ 10</p>	<p>7 og 8</p>	
<p>3 4 ___ 6 7 8 ___ 10</p>	<p>5 og 10</p>	
<p>___ 7 8 9 10 11 ___ 13</p>	<p>4 og 6</p>	
<p>___ 7 8 9 10 11 ___ 13</p>	<p>5 og 9</p>	
<p>___ 8 9 10 11 12 13 ___</p>	<p>7 og 9</p>	
<p>___ 8 9 10 11 12 13 ___</p>	<p>6 og 12</p>	
<p>___ 8 9 10 11 12 13 ___</p>	<p>8 og 12</p>	
<p>___ 8 9 10 11 12 13 ___</p>	<p>7 og 14</p>	
	<p>9 og 10</p>	
	<p>8 og 13</p>	

Hvilke tal mangler? **LØSNING**



Sæt  ved de tal der passer i rækken.

<p>1 ___ 3 4 5 ___ 7 8</p>	<p>3 og 6</p>	
	<p>2 og 6</p>	
	<p>2 og 7</p>	
<p>___ 6 7 8 9 10 ___ 12</p>	<p>6 og 12</p>	
	<p>5 og 11</p>	
	<p>7 og 8</p>	
<p>3 4 ___ 6 7 8 ___ 10</p>	<p>5 og 10</p>	
	<p>4 og 6</p>	
	<p>5 og 9</p>	
<p>___ 7 8 9 10 11 ___ 13</p>	<p>7 og 9</p>	
	<p>6 og 12</p>	
	<p>8 og 12</p>	
<p>___ 8 9 10 11 12 13 ___</p>	<p>7 og 14</p>	
	<p>9 og 10</p>	
	<p>8 og 13</p>	