


Hvilke tal mangler?

Sæt  ved de tal der passer i rækken.








| | | |
|--------------------|---------|--|
| 0 _ 2 3 4 5 _ 7 | 0 og 6 | |
| | 2 og 7 | |
| | 1 og 6 | |
| | 5 og 8 | |
| _ 5 6 7 _ 9 10 11 | 4 og 8 | |
| | 6 og 9 | |
| | 3 og 5 | |
| 1 2 _ 4 _ 6 7 8 | 2 og 4 | |
| | 3 og 7 | |
| | 7 og 11 | |
| 6 _ 8 9 10 11 12 _ | 9 og 12 | |
| | 7 og 13 | |
| | 3 og 7 | |
| _ 3 4 5 6 7 _ 9 | 4 og 9 | |
| | 2 og 8 | |

Hvilke tal mangler? **LØSNING**



Sæt  ved de tal der passer i rækken.

| | | |
|---------------------------|----------------|---|
| <p>0 _ 2 3 4 5 _ 7</p> | <p>0 og 6</p> | |
| | <p>2 og 7</p> | |
| | <p>1 og 6</p> |  |
| | <p>5 og 8</p> | |
| <p>_ 5 6 7 _ 9 10 11</p> | <p>4 og 8</p> |  |
| | <p>6 og 9</p> | |
| | <p>3 og 5</p> |  |
| <p>1 2 _ 4 _ 6 7 8</p> | <p>2 og 4</p> | |
| | <p>3 og 7</p> | |
| <p>6 _ 8 9 10 11 12 _</p> | <p>7 og 11</p> | |
| | <p>9 og 12</p> | |
| | <p>7 og 13</p> |  |
| <p>_ 3 4 5 6 7 _ 9</p> | <p>3 og 7</p> | |
| | <p>4 og 9</p> | |
| | <p>2 og 8</p> |  |