

Hvilke tal mangler?

Sæt  ved de tal der passer i rækken.








| | | |
|---------------------|----------|--|
| 1 _ 3 4 _ 6 7 8 | 3 og 7 | |
| | 2 og 6 | |
| | 2 og 5 | |
| 4 5 _ 7 8 9 _ 11 | 6 og 9 | |
| | 6 og 10 | |
| | 5 og 8 | |
| 5 6 _ 8 9 10 _ 12 | 6 og 9 | |
| | 7 og 11 | |
| | 7 og 10 | |
| 3 _ 5 6 7 _ 9 10 | 4 og 8 | |
| | 5 og 9 | |
| | 4 og 9 | |
| 7 8 _ 10 11 _ 13 14 | 8 og 11 | |
| | 10 og 12 | |
| | 9 og 12 | |

Hvilke tal mangler? **LØSNING**

Sæt  ved de tal der passer i rækken.



| | | |
|--------------------------------|-----------------|---|
| <p>1 ___ 3 4 ___ 6 7 8</p> | <p>3 og 7</p> | |
| | <p>2 og 6</p> | |
| | <p>2 og 5</p> |  |
| <p>4 5 ___ 7 8 9 ___ 11</p> | <p>6 og 9</p> | |
| | <p>6 og 10</p> |  |
| | <p>5 og 8</p> | |
| <p>5 6 ___ 8 9 10 ___ 12</p> | <p>6 og 9</p> | |
| | <p>7 og 11</p> |  |
| | <p>7 og 10</p> | |
| <p>3 ___ 5 6 7 ___ 9 10</p> | <p>4 og 8</p> |  |
| | <p>5 og 9</p> | |
| | <p>4 og 9</p> | |
| <p>7 8 ___ 10 11 ___ 13 14</p> | <p>8 og 11</p> | |
| | <p>10 og 12</p> | |
| | <p>9 og 12</p> |  |