

Hvilke tal mangler?

Sæt  ved de tal der passer i rækken.








___ 7 8 9 10 11 ___ 13	7 og 11	
	6 og 12	
	8 og 9	
2 3 ___ 5 6 ___ 8 9	4 og 7	
	3 og 8	
	5 og 9	
1 2 3 4 ___ 6 7 ___	2 og 6	
	3 og 5	
	5 og 8	
5 ___ 7 8 9 ___ 11 12	6 og 11	
	6 og 10	
	7 og 9	
4 5 ___ 7 8 ___ 10 11	5 og 9	
	7 og 11	
	6 og 9	

Hvilke tal mangler? LØSNING



Sæt  ved de tal der passer i rækken.

<p>___ 7 8 9 10 11 ___ 13</p>	7 og 11	
	6 og 12	
	8 og 9	
<p>2 3 ___ 5 6 ___ 8 9</p>	4 og 7	
	3 og 8	
<p>1 2 3 4 ___ 6 7 ___</p>	5 og 9	
	2 og 6	
<p>5 ___ 7 8 9 ___ 11 12</p>	3 og 5	
	5 og 8	
<p>4 5 ___ 7 8 ___ 10 12</p>	6 og 11	
	6 og 10	
	7 og 9	
	5 og 9	
	7 og 11	
	6 og 9	

Hvilke tal mangler?

Sæt  ved de tal der passer i rækken.








1 ___ 3 4 ___ 6 7 8	3 og 7	
	2 og 6	
	2 og 5	
4 5 ___ 7 8 9 ___ 11	6 og 9	
	6 og 10	
	5 og 8	
5 6 ___ 8 9 10 ___ 12	6 og 9	
	7 og 11	
	7 og 10	
3 ___ 5 6 7 ___ 9 10	4 og 8	
	5 og 9	
	4 og 9	
7 8 ___ 10 11 ___ 13 14	8 og 11	
	10 og 12	
	9 og 12	

Hvilke tal mangler? **LØSNING**

Sæt  ved de tal der passer i rækken.



<p>1 ___ 3 4 ___ 6 7 8</p>	<p>3 og 7</p>	
	<p>2 og 6</p>	
	<p>2 og 5</p>	
<p>4 5 ___ 7 8 9 ___ 11</p>	<p>6 og 9</p>	
	<p>6 og 10</p>	
	<p>5 og 8</p>	
<p>5 6 ___ 8 9 10 ___ 12</p>	<p>6 og 9</p>	
	<p>7 og 11</p>	
	<p>7 og 10</p>	
<p>3 ___ 5 6 7 ___ 9 10</p>	<p>4 og 8</p>	
	<p>5 og 9</p>	
	<p>4 og 9</p>	
<p>7 8 ___ 10 11 ___ 13 14</p>	<p>8 og 11</p>	
	<p>10 og 12</p>	
	<p>9 og 12</p>	

Hvilke tal mangler?

Sæt  ved de tal der passer i rækken.








7 8 ___ 10 11 ___ 13 14	7 og 13	
	9 og 11	
3 ___ 5 6 ___ 8 9 10	9 og 12	
	3 og 8	
6 7 ___ 9 10 11 ___ 13	4 og 7	
1 ___ 3 ___ 5 6 7 8	5 og 10	
	7 og 13	
4 ___ 6 7 8 9 ___ 11	9 og 11	
	8 og 12	
	1 og 3	
	2 og 4	
	2 og 6	
	5 og 9	
	5 og 10	
	6 og 8	

Hvilke tal mangler? **LØSNING**




Sæt  ved de tal der passer i rækken.

<p>7 8 ___ 10 11 ___ 13 14</p>	<p>7 og 13</p>	
	<p>9 og 11</p>	
	<p>9 og 12</p>	
	<p>3 og 8</p>	
<p>3 ___ 5 6 ___ 8 9 10</p>	<p>4 og 7</p>	
	<p>5 og 10</p>	
	<p>7 og 13</p>	
<p>6 7 ___ 9 10 11 ___ 13</p>	<p>9 og 11</p>	
	<p>8 og 12</p>	
<p>1 ___ 3 ___ 5 6 7 8</p>	<p>1 og 3</p>	
<p>4 ___ 6 7 8 9 ___ 11</p>	<p>2 og 4</p>	
	<p>2 og 6</p>	
	<p>5 og 9</p>	
	<p>5 og 10</p>	
	<p>6 og 8</p>	


Hvilke tal mangler?

Sæt  ved de tal der passer i rækken.








5 ___ 7 8 9 10 ___ 12	7 og 11	
	5 og 9	
	6 og 11	
4 5 ___ 7 8 ___ 10 11	7 og 10	
	6 og 9	
	8 og 9	
3 4 ___ 6 7 8 ___ 10	5 og 9	
	3 og 6	
	5 og 7	
7 ___ 9 10 11 12 ___ 14	9 og 12	
	10 og 13	
	8 og 13	
1 ___ 3 4 ___ 6 7 8	3 og 5	
	2 og 5	
	6 og 8	


Hvilke tal mangler? **LØSNING**



Sæt  ved de tal der passer i rækken.

5 _ 7 8 9 10 _ 12	7 og 11	
	5 og 9	
	6 og 11	
4 5 _ 7 8 _ 10 11	7 og 10	
	6 og 9	
	8 og 9	
3 4 _ 6 7 8 _ 10	5 og 9	
	3 og 6	
	5 og 7	
7 _ 9 10 11 12 _ 14	9 og 12	
	10 og 13	
	8 og 13	
1 _ 3 4 _ 6 7 8	3 og 5	
	2 og 5	
	6 og 8	


Hvilke tal mangler?








Sæt  ved de tal der passer i rækken.

2 _ 4 5 _ 7 8 9	4 og 6	
	3 og 7	
	3 og 6	
5 6 _ 8 9 10 _ 12	7 og 10	
	7 og 11	
	5 og 11	
8 9 10 _ 12 13 _ 15	9 og 14	
	8 og 15	
	11 og 14	
1 _ 3 4 _ 6 7 8	2 og 5	
	2 og 7	
	3 og 5	
6 7 8 _ 10 _ 12 13	9 og 11	
	7 og 12	
	9 og 10	

Hvilke tal mangler? **LØSNING**




Sæt  ved de tal der passer i rækken.

<p>2 _ 4 5 _ 7 8 9</p>	<p>4 og 6</p>	
	<p>3 og 7</p>	
<p>5 6 _ 8 9 10 _ 12</p>	<p>3 og 6</p>	
	<p>7 og 10</p>	
<p>8 9 10 _ 12 13 _ 15</p>	<p>7 og 11</p>	
	<p>5 og 11</p>	
<p>1 _ 3 4 _ 6 7 8</p>	<p>9 og 14</p>	
	<p>8 og 15</p>	
<p>6 7 8 _ 10 _ 12 13</p>	<p>11 og 14</p>	
	<p>2 og 5</p>	
	<p>2 og 7</p>	
	<p>3 og 5</p>	
	<p>9 og 11</p>	
	<p>7 og 12</p>	
	<p>9 og 10</p>	


Hvilke tal mangler?

Sæt  ved de tal der passer i rækken.



3 _ 5 6 _ 8 9 10	4 og 7	
7 8 _ 10 12 13 _ 15	5 og 8	
6 7 _ 9 10 11 _ 13	4 og 9	
5 _ 7 8 9 _ 11 12	8 og 13	
2 _ 4 5 _ 7 8 9	9 og 14	
	9 og 13	
	7 og 10	
	9 og 11	
	8 og 12	
	7 og 11	
	6 og 10	
	8 og 12	
	4 og 8	
	3 og 8	
	3 og 6	

Hvilke tal mangler? **LØSNING**



Sæt  ved de tal der passer i rækken.

<p>3 _ 5 6 _ 8 9 10</p>	<p>4 og 7</p>	<p><input checked="" type="checkbox"/></p>
	<p>5 og 8</p>	<p><input type="checkbox"/></p>
	<p>4 og 9</p>	<p><input type="checkbox"/></p>
<p>7 8 _ 10 12 13 _ 15</p>	<p>8 og 13</p>	<p><input type="checkbox"/></p>
	<p>9 og 14</p>	<p><input checked="" type="checkbox"/></p>
	<p>9 og 13</p>	<p><input type="checkbox"/></p>
<p>6 7 _ 9 10 11 _ 13</p>	<p>7 og 10</p>	<p><input type="checkbox"/></p>
	<p>9 og 11</p>	<p><input type="checkbox"/></p>
	<p>8 og 12</p>	<p><input checked="" type="checkbox"/></p>
<p>5 _ 7 8 9 _ 11 12</p>	<p>7 og 11</p>	<p><input type="checkbox"/></p>
	<p>6 og 10</p>	<p><input checked="" type="checkbox"/></p>
	<p>8 og 12</p>	<p><input type="checkbox"/></p>
<p>2 _ 4 5 _ 7 8 9</p>	<p>4 og 8</p>	<p><input type="checkbox"/></p>
	<p>3 og 8</p>	<p><input type="checkbox"/></p>
	<p>3 og 6</p>	<p><input checked="" type="checkbox"/></p>

Hvilke tal mangler?

Sæt  ved de tal der passer i rækken.








<p>1 2 ___ 4 5 ___ 7 8</p>	<p>2 og 6</p>	
	<p>3 og 7</p>	
	<p>3 og 6</p>	
<p>3 4 ___ 6 7 ___ 9 10</p>	<p>5 og 7</p>	
	<p>5 og 8</p>	
	<p>6 og 9</p>	
<p>___ 7 8 9 10 11 ___ 13</p>	<p>6 og 10</p>	
	<p>6 og 12</p>	
	<p>8 og 12</p>	
<p>0 1 ___ 3 4 5 6 ___</p>	<p>2 og 5</p>	
	<p>4 og 8</p>	
	<p>2 og 7</p>	
<p>___ 5 6 7 8 9 ___ 11</p>	<p>4 og 9</p>	
	<p>4 og 10</p>	
	<p>5 og 10</p>	

Hvilke tal mangler? **LØSNING**



Sæt  ved de tal der passer i rækken.

<p>1 2 ___ 4 5 ___ 7 8</p>	<p>2 og 6</p>	
	<p>3 og 7</p>	
	<p>3 og 6</p>	
<p>3 4 ___ 6 7 ___ 9 10</p>	<p>5 og 7</p>	
	<p>5 og 8</p>	
	<p>6 og 9</p>	
<p>___ 7 8 9 10 11 ___ 13</p>	<p>6 og 10</p>	
	<p>6 og 12</p>	
	<p>8 og 12</p>	
<p>0 1 ___ 3 4 5 6 ___</p>	<p>2 og 5</p>	
	<p>4 og 8</p>	
	<p>2 og 7</p>	
<p>___ 5 6 7 8 9 ___ 11</p>	<p>4 og 9</p>	
	<p>4 og 10</p>	
	<p>5 og 10</p>	

Hvilke tal mangler?








Sæt  ved de tal der passer i rækken.

___ 3 4 5 6 ___ 8 9	2 og 8	
	3 og 7	
	2 og 7	
4 ___ 6 7 8 ___ 10 11	6 og 11	
	5 og 9	
	5 og 8	
8 9 ___ 11 ___ 13 14 15	9 og 14	
	10 og 13	
	10 og 12	
0 ___ 2 3 4 ___ 6 7	1 og 5	
	2 og 5	
	1 og 6	
___ 6 7 8 9 10 11 ___	5 og 10	
	7 og 12	
	5 og 12	

Hvilke tal mangler? LØSNING




Sæt  ved de tal der passer i rækken.

<p>___ 3 4 5 6 ___ 8 9</p>	2 og 8	
	3 og 7	
	2 og 7	
<p>4 ___ 6 7 8 ___ 10 11</p>	6 og 11	
	5 og 9	
	5 og 8	
<p>8 9 ___ 11 ___ 13 14 15</p>	9 og 14	
	10 og 13	
	10 og 12	
<p>0 ___ 2 3 4 ___ 6 7</p>	1 og 5	
	2 og 5	
	1 og 6	
<p>___ 6 7 8 9 10 11 ___</p>	5 og 10	
	7 og 12	
	5 og 12	


Hvilke tal mangler?

Sæt  ved de tal der passer i rækken.








0 _ 2 3 4 5 _ 7	0 og 6	
	2 og 7	
	1 og 6	
	5 og 8	
_ 5 6 7 _ 9 10 11	4 og 8	
	6 og 9	
	3 og 5	
1 2 _ 4 _ 6 7 8	2 og 4	
	3 og 7	
	7 og 11	
6 _ 8 9 10 11 12 _	9 og 12	
	7 og 13	
	3 og 7	
_ 3 4 5 6 7 _ 9	4 og 9	
	2 og 8	

Hvilke tal mangler? **LØSNING**



Sæt  ved de tal der passer i rækken.

<p>0 _ 2 3 4 5 _ 7</p>	<p>0 og 6</p>	
	<p>2 og 7</p>	
	<p>1 og 6</p>	
<p>_ 5 6 7 _ 9 10 11</p>	<p>5 og 8</p>	
	<p>4 og 8</p>	
	<p>6 og 9</p>	
<p>1 2 _ 4 _ 6 7 8</p>	<p>3 og 5</p>	
	<p>2 og 4</p>	
	<p>3 og 7</p>	
<p>6 _ 8 9 10 11 12 _</p>	<p>7 og 11</p>	
	<p>9 og 12</p>	
	<p>7 og 13</p>	
<p>_ 3 4 5 6 7 _ 9</p>	<p>3 og 7</p>	
	<p>4 og 9</p>	
	<p>2 og 8</p>	

Hvilke tal mangler?

Sæt  ved de tal der passer i rækken.








___ 7 8 9 10 11 ___ 13	6 og 11	
	7 og 13	
	6 og 12	
2 ___ 4 5 6 7 ___ 9	3 og 9	
	3 og 8	
	4 og 8	
7 ___ 9 10 11 ___ 13 14	7 og 13	
	9 og 11	
	8 og 12	
0 ___ 2 3 4 5 6 ___	0 og 7	
	1 og 7	
	3 og 5	
4 5 ___ 7 8 9 ___ 11	6 og 10	
	6 og 11	
	5 og 10	

Hvilke tal mangler? **LØSNING**



Sæt  ved de tal der passer i rækken.

<p>___ 7 8 9 10 11 ___ 13</p>	6 og 11	
	7 og 13	
	6 og 12	
<p>2 ___ 4 5 6 7 ___ 9</p>	3 og 9	
	3 og 8	
	4 og 8	
<p>7 ___ 9 10 11 ___ 13 14</p>	7 og 13	
	9 og 11	
	8 og 12	
<p>0 ___ 2 3 4 5 6 ___</p>	0 og 7	
	1 og 7	
	3 og 5	
<p>4 5 ___ 7 8 9 ___ 11</p>	6 og 10	
	6 og 11	
	5 og 10	

Hvilke tal mangler?

Sæt  ved de tal der passer i rækken.








<p>1 ___ 3 4 5 ___ 7 8</p>	<p>3 og 6</p>	
	<p>2 og 6</p>	
	<p>2 og 7</p>	
<p>___ 6 7 8 9 10 ___ 12</p>	<p>6 og 12</p>	
	<p>5 og 11</p>	
	<p>7 og 8</p>	
<p>3 4 ___ 6 7 8 ___ 10</p>	<p>5 og 10</p>	
	<p>4 og 6</p>	
	<p>5 og 9</p>	
<p>___ 7 8 9 10 11 ___ 13</p>	<p>7 og 9</p>	
	<p>6 og 12</p>	
	<p>8 og 12</p>	
<p>___ 8 9 10 11 12 13 ___</p>	<p>7 og 14</p>	
	<p>9 og 10</p>	
	<p>8 og 13</p>	

Hvilke tal mangler? LØSNING




Sæt  ved de tal der passer i rækken.

<p>1 ___ 3 4 5 ___ 7 8</p>	<p>3 og 6</p>	
	<p>2 og 6</p>	
	<p>2 og 7</p>	
<p>___ 6 7 8 9 10 ___ 12</p>	<p>6 og 12</p>	
	<p>5 og 11</p>	
	<p>7 og 8</p>	
<p>3 4 ___ 6 7 8 ___ 10</p>	<p>5 og 10</p>	
	<p>4 og 6</p>	
	<p>5 og 9</p>	
<p>___ 7 8 9 10 11 ___ 13</p>	<p>7 og 9</p>	
	<p>6 og 12</p>	
	<p>8 og 12</p>	
<p>___ 8 9 10 11 12 13 ___</p>	<p>7 og 14</p>	
	<p>9 og 10</p>	
	<p>8 og 13</p>	

Hvilke tal mangler?


Sæt  ved de tal der passer i rækken.



<p>1 ___ 3 4 5 ___ 7 8</p>	<p>1 og 6</p>	
	<p>2 og 6</p>	
	<p>3 og 6</p>	
<p>___ 6 7 8 9 ___ 11 12</p>	<p>5 og 10</p>	
	<p>6 og 11</p>	
	<p>5 og 9</p>	
<p>2 3 ___ 5 ___ 7 8 9</p>	<p>6 og 9</p>	
	<p>4 og 6</p>	
	<p>3 og 4</p>	
<p>6 ___ 8 9 10 11 ___ 13</p>	<p>7 og 13</p>	
	<p>6 og 11</p>	
	<p>7 og 12</p>	
<p>0 ___ 2 3 4 5 6 ___</p>	<p>3 og 4</p>	
	<p>0 og 6</p>	
	<p>1 og 7</p>	


Hvilke tal mangler? **LØSNING**

Sæt  ved de tal der passer i rækken.



<p>1 ___ 3 4 5 ___ 7 8</p>	<p>1 og 6</p>	
	<p>2 og 6</p>	<input checked="" type="checkbox"/>
	<p>3 og 6</p>	
<p>___ 6 7 8 9 ___ 11 12</p>	<p>5 og 10</p>	<input checked="" type="checkbox"/>
	<p>6 og 11</p>	
	<p>5 og 9</p>	
<p>2 3 ___ 5 ___ 7 8 9</p>	<p>6 og 9</p>	
	<p>4 og 6</p>	<input checked="" type="checkbox"/>
	<p>3 og 4</p>	
<p>6 ___ 8 9 10 11 ___ 13</p>	<p>7 og 13</p>	
	<p>6 og 11</p>	
	<p>7 og 12</p>	<input checked="" type="checkbox"/>
<p>0 ___ 2 3 4 5 6 ___</p>	<p>3 og 4</p>	
	<p>0 og 6</p>	
	<p>1 og 7</p>	<input checked="" type="checkbox"/>


Hvilke tal mangler?








Sæt  ved de tal der passer i rækken.

4 5 ___ 7 8 ___ 10 11	6 og 8	<input type="checkbox"/>
	4 og 11	<input type="checkbox"/>
	6 og 9	<input type="checkbox"/>
8 ___ 10 11 12 13 ___ 15	9 og 14	<input type="checkbox"/>
	10 og 13	<input type="checkbox"/>
	9 og 13	<input type="checkbox"/>
___ 2 3 4 5 6 7 ___	1 og 7	<input type="checkbox"/>
	1 og 8	<input type="checkbox"/>
	2 og 8	<input type="checkbox"/>
3 ___ 5 6 7 ___ 9 10	4 og 7	<input type="checkbox"/>
	4 og 8	<input type="checkbox"/>
	5 og 9	<input type="checkbox"/>
5 6 7 ___ ___ 10 11 12	7 og 10	<input type="checkbox"/>
	6 og 11	<input type="checkbox"/>
	8 og 9	<input type="checkbox"/>


Hvilke tal mangler? **LØSNING**



Sæt  ved de tal der passer i rækken.

<p>4 5 ___ 7 8 ___ 10 11</p>	<p>6 og 8</p>	
	<p>4 og 11</p>	
	<p>6 og 9</p>	
<p>8 ___ 10 11 12 13 ___ 15</p>	<p>9 og 14</p>	
	<p>10 og 13</p>	
	<p>9 og 13</p>	
<p>___ 2 3 4 5 6 7 ___</p>	<p>1 og 7</p>	
	<p>1 og 8</p>	
	<p>2 og 8</p>	
<p>3 ___ 5 6 7 ___ 9 10</p>	<p>4 og 7</p>	
	<p>4 og 8</p>	
	<p>5 og 9</p>	
<p>5 6 7 ___ ___ 10 11 12</p>	<p>7 og 10</p>	
	<p>6 og 11</p>	
	<p>8 og 9</p>	


Hvilke tal mangler?








Sæt  ved de tal der passer i rækken.

___ 2 3 4 5 6 7 ___	1 og 7	
	1 og 8	
	2 og 7	
6 7 ___ 9 10 11 ___ 13	7 og 9	
	8 og 12	
	9 og 10	
4 5 ___ 7 ___ 9 10 11	5 og 7	
	6 og 9	
	6 og 8	
0 1 2 ___ ___ 5 6 7	4 og 5	
	3 og 4	
	2 og 3	
5 6 ___ 8 9 10 ___ 12	7 og 12	
	7 og 11	
	6 og 11	

Hvilke tal mangler? **LØSNING**



Sæt  ved de tal der passer i rækken.

<p>___ 2 3 4 5 6 7 ___</p>	1 og 7	
	1 og 8	
	2 og 7	
<p>6 7 ___ 9 10 11 ___ 13</p>	7 og 9	
	8 og 12	
	9 og 10	
<p>4 5 ___ 7 ___ 9 10 11</p>	5 og 7	
	6 og 9	
	6 og 8	
<p>0 1 2 ___ ___ 5 6 7</p>	4 og 5	
	3 og 4	
	2 og 3	
<p>5 6 ___ 8 9 10 ___ 12</p>	7 og 12	
	6 og 11	
	7 og 11	

Hvilke tal mangler?

Sæt  ved de tal der passer i rækken.



7 _ 9 10 11 12 _ 14	8 og 13	
	7 og 9	
	8 og 12	
2 3 _ 5 6 7 8 _	4 og 8	
	4 og 9	
	3 og 8	
4 5 6 _ 8 9 _ 11	6 og 8	
	5 og 9	
	7 og 10	
5 _ 7 8 9 10 _ 12	6 og 12	
	7 og 10	
	6 og 11	
_ 1 _ 3 4 5 6 7	0 og 2	
	2 og 5	
	0 og 1	

Hvilke tal mangler? **LØSNING**

Sæt  ved de tal der passer i rækken.



7 _ 9 10 11 12 _ 14	8 og 13	<input checked="" type="checkbox"/>
	7 og 9	<input type="checkbox"/>
	8 og 12	<input type="checkbox"/>
2 3 _ 5 6 7 8 _	4 og 8	<input type="checkbox"/>
	4 og 9	<input checked="" type="checkbox"/>
	3 og 8	<input type="checkbox"/>
4 5 6 _ 8 9 _ 11	6 og 8	<input type="checkbox"/>
	5 og 9	<input type="checkbox"/>
	7 og 10	<input checked="" type="checkbox"/>
5 _ 7 8 9 10 _ 12	6 og 12	<input type="checkbox"/>
	7 og 10	<input type="checkbox"/>
	6 og 11	<input checked="" type="checkbox"/>
_ 1 _ 3 4 5 6 7	0 og 2	<input checked="" type="checkbox"/>
	2 og 5	<input type="checkbox"/>
	0 og 1	<input type="checkbox"/>

Hvilke tal mangler?








Sæt  ved de tal der passer i rækken.

1 _ 3 4 5 _ 7 8	2 og 5	
	3 og 7	
	2 og 6	
5 _ 7 _ 9 10 11 12	6 og 8	
	6 og 9	
	5 og 7	
2 3 4 _ _ 7 8 9	4 og 7	
	5 og 6	
	7 og 8	
6 7 _ 9 10 11 12 _	7 og 12	
	9 og 13	
	8 og 13	
_ 5 6 7 8 9 10 _	5 og 10	
	4 og 11	
	4 og 10	

Hvilke tal mangler? **LØSNING**



Sæt  ved de tal der passer i rækken.

<p>1 _ 3 4 5 _ 7 8</p>	<p>2 og 5</p>	
	<p>3 og 7</p>	
	<p>2 og 6</p>	
<p>5 _ 7 _ 9 10 11 12</p>	<p>6 og 8</p>	
	<p>6 og 9</p>	
<p>2 3 4 _ _ 7 8 9</p>	<p>5 og 7</p>	
	<p>4 og 7</p>	
<p>6 7 _ 9 10 11 12 _</p>	<p>5 og 6</p>	
	<p>7 og 8</p>	
<p>_ 5 6 7 8 9 10 _</p>	<p>7 og 12</p>	
	<p>9 og 13</p>	
	<p>8 og 13</p>	
<p>_ 5 6 7 8 9 10 _</p>	<p>5 og 10</p>	
	<p>4 og 11</p>	
	<p>4 og 10</p>	